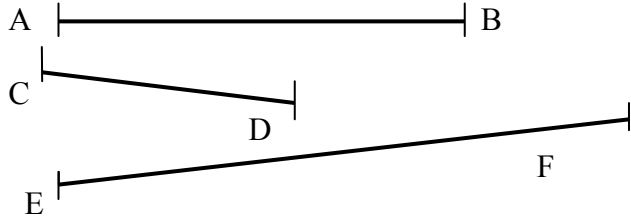


1/ Mesure les longueurs suivantes :

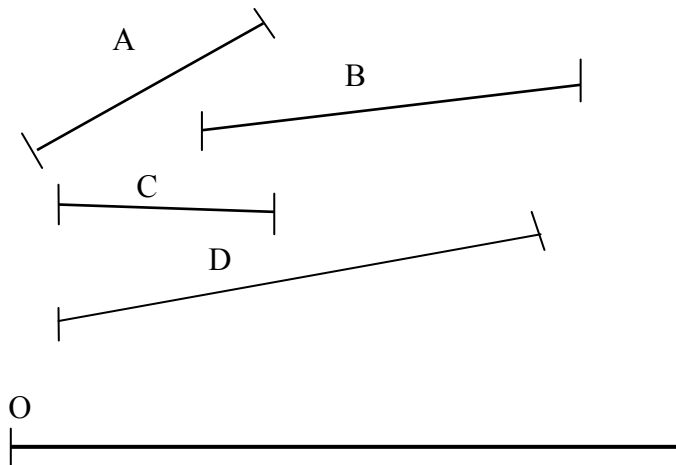


[AB] = \_\_\_\_\_  
[CD] = \_\_\_\_\_  
[EF] = \_\_\_\_\_

2/ Sur ton cahier, trace :

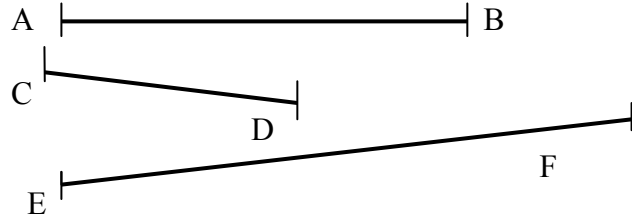
- un segment de 5 cm
- un segment de 7 cm et 5 mm
- un segment de 9 cm

3/ En t'aidant seulement du compas, reporte la longueur de chaque segment en partant de O. Range ensuite les segments du plus petit au plus grand.



Réponse : ..... < ..... < ..... < .....

1/ Mesure les longueurs suivantes :

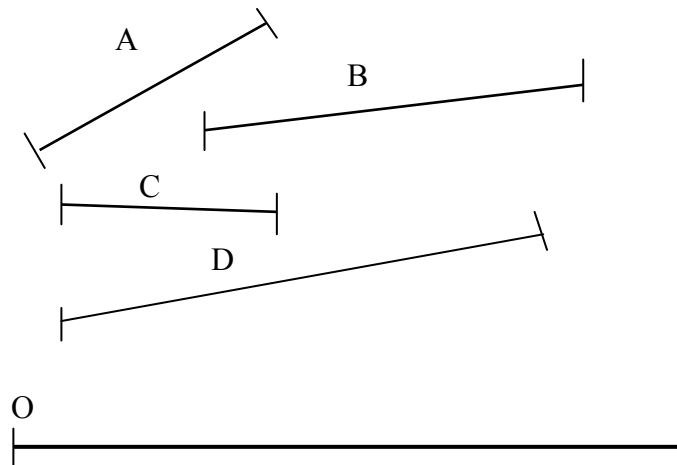


[AB] = \_\_\_\_\_  
[CD] = \_\_\_\_\_  
[EF] = \_\_\_\_\_

2/ Sur ton cahier, trace :

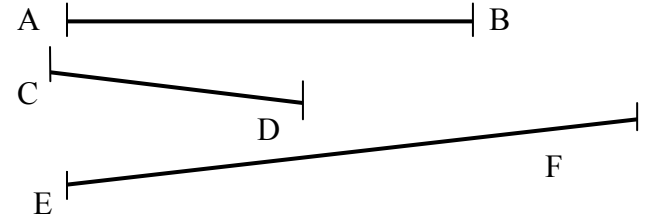
- un segment de 5 cm
- un segment de 7 cm et 5 mm
- un segment de 9 cm

3/ En t'aidant seulement du compas, reporte la longueur de chaque segment en partant de O. Range ensuite les segments du plus petit au plus grand.



Réponse : ..... < ..... < ..... < .....

1/ Mesure les longueurs suivantes :

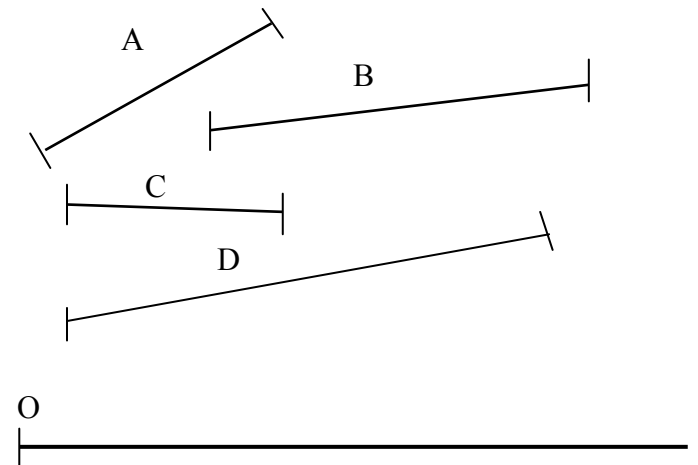


[AB] = \_\_\_\_\_  
[CD] = \_\_\_\_\_  
[EF] = \_\_\_\_\_

2/ Sur ton cahier, trace :

- un segment de 5 cm
- un segment de 7 cm et 5 mm
- un segment de 9 cm

3/ En t'aidant seulement du compas, reporte la longueur de chaque segment en partant de O. Range ensuite les segments du plus petit au plus grand.



Réponse : ..... < ..... < ..... < .....