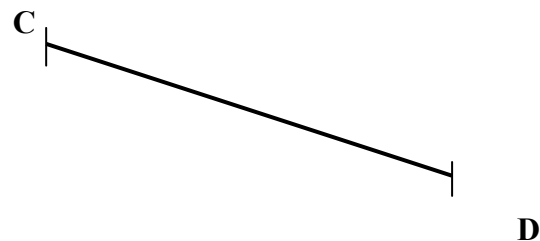


Exercice 1 : Mesure les deux segments suivants avec ta règle graduée, et indique leur longueur. Sois précis et précise l'unité.

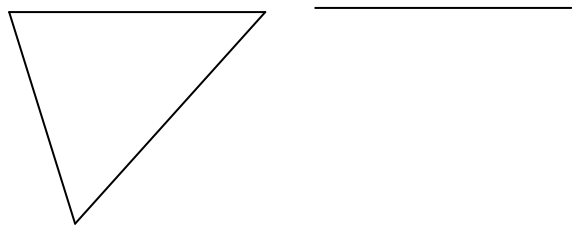


AB= _____



CD= _____

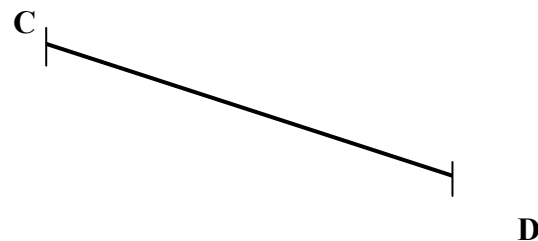
Exercice 2 : Complète la figure suivante en reportant les longueurs à l'aide de ton compas.



Exercice 1 : Mesure les deux segments suivants avec ta règle graduée, et indique leur longueur. Sois précis et précise l'unité.

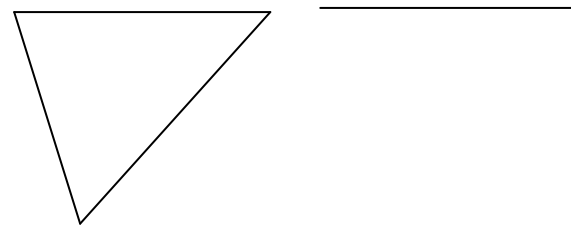


AB= _____



CD= _____

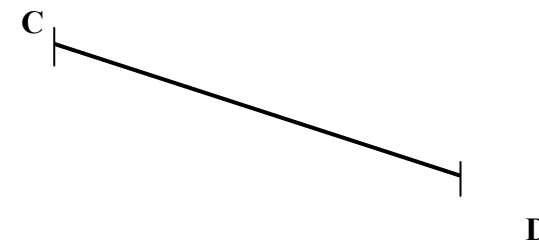
Exercice 2 : Complète la figure suivante en reportant les longueurs à l'aide de ton compas.



Exercice 1 : Mesure les deux segments suivants avec ta règle graduée, et indique leur longueur. Sois précis et précise l'unité.



AB= _____



CD= _____

Exercice 2 : Complète la figure suivante en reportant les longueurs à l'aide de ton compas.

